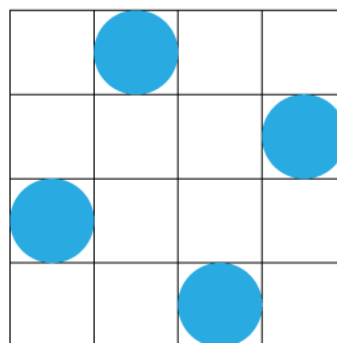
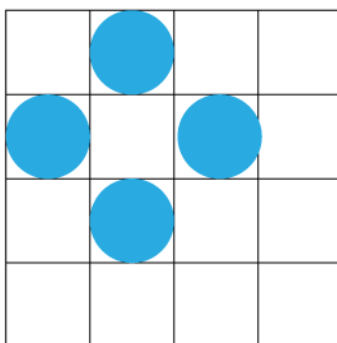
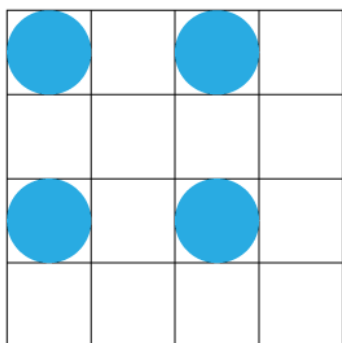


## Kvadrathjørner

Tellebrikkene i hvert av de tre rutenettene nedenfor ligger i hjørnet til hvert sitt kvadrat:



Hvor mange tellebrikker kan du plasser i figuren, uten at fire av dem ligger i hjørnet til samme kvadrat?

