


Her er fem **Symboler**.



Når vi regner riktig med **Symbolene**, får vi:


$$\text{Cat} + \text{Cat} = \text{Bear}$$


$$\text{Dog} + \text{Dog} = \text{Cat}$$

$$\text{Dog} + \text{Bear} = \text{Pig}$$

Disse står for tallene **1, 2, 3, 4 og 5**.

Hvilket av **Symbolene** står for tallet **3**?



A)  = _____

B)  = _____

C)  = _____

D)  = _____

E)  = _____

_____ + _____ = _____

_____ + _____ = _____

_____ + _____ = _____

