


Fantastiske former


Dei to formene du ser her, har faste verdier:



$$\triangle = 7 \quad \square = 17$$




Verdien til den raude forma endrar seg i kvart av dei tilfella nedanfor.



Kan du finne ut kva verdi han har på kvar linje viss verdiane til formene blir lagde saman?

(a) \triangle  \square = 25

(b) \square \triangle \triangle  = 51

(c) \triangle \triangle   \square \square = 136

(d)    = 48

(e) \triangle  \triangle \square \triangle  \triangle = 100